

Текущий контроль. Тестирование по итогам первого триместра

Обведите кружочком номер правильного ответа

1. В Древнем Египте сыном бога Амона называли

- 1)начальника работ по строительству пирамид; 2)фараона;
3)путешественника, отправившегося в Нубию; 4)сборщика налогов

2. Кто в Древнем Египте мог построить себе гробницу?

- 1)гончар; 2)земледелец; 3) «носитель царских сандалий»; 4)раю знатного человека

3. Столицей Древнего Египта при фараоне Тутмосе был город

- 1)Кадеш; 2)Мемфис; 3)Фивы; 4)Мегиддо

4. Какое из перечисленных событий произошло раньше остальных?

- 1)поход фараона Тутмоса на Мегиддо; 2)объединение Египта;
3)строительство пирамиды фараона Хеопса; 4)правление фараона Эхнатона

5. Кто из перечисленных не входил в состав населения Древнего Египта?

- 1)вожди племен; 2)ремесленники; 3)писцы; 4)фараон;
5)земледельцы; 6)воины; 7)рабы-пленники; 8) вельможи

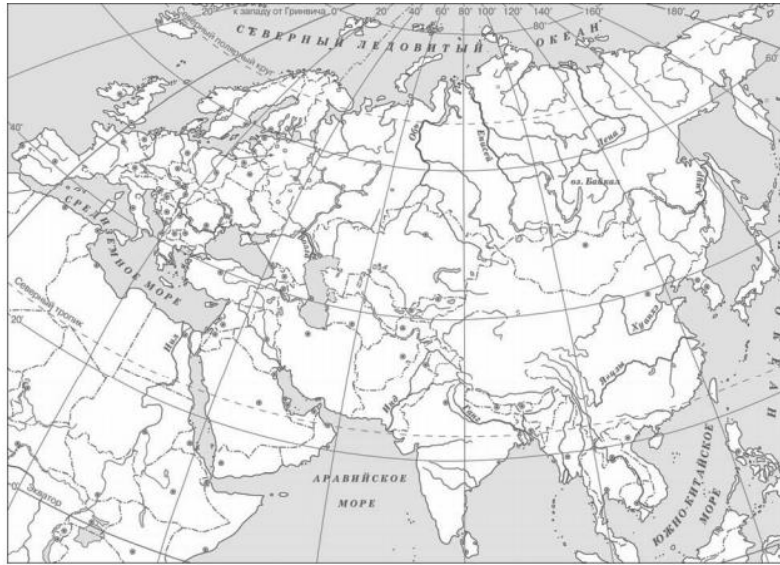
6. Установите соответствие между понятиями и их определениями. Получившуюся последовательность цифр запишите в таблицу.

- | | |
|------------|--|
| А)бог | 1)гроб, украшенный рисунками и надписями |
| Б)колонна | 2)повелитель людей и природы |
| В)саркофаг | 3)гробница фараона |
| Г)пирамида | 4)высокий столб – опора в здании |

А	Б	В	Г

7. Самая высокая пирамида была выстроена по приказу фараона

8. Заштрихуйте на контурной карте один четырёхугольник, образованный градусной сеткой (параллелями и меридианами), в котором полностью или частично располагался Древний Египет



9. Используя знания исторических фактов, объясните, как природно-климатические условия повлияли на занятия египтян.

Текущий контроль. Тестирование по итогам второго триместра

Обведите кружочком номер правильного ответа

1. В каком греческом полисе не было крепостных стен?

- 1) в Афинах; 2) в Коринфе; 3) в Спарте; 4) в Платеях

2. Первым сражением Греко-персидских войн, в котором эллины одержали победу, была(о)

- 1) битва при Платеях; 2) Марафонская битва;
3) Саламинское сражение; 4) битва при Фермопильском ущелье

Отметьте дату этого сражения.

- 1) 490 год до н.э.; 2) 484 год до н.э.; 3) 480 год до н.э.; 4) 479 год до н.э.

Укажите имя полководца-победителя.

- 1) Феаген; 2) Фемистокл; 3) Милон; 4) Мильтиад

3. Что из перечисленного относится к VIII (8-му) веку до н.э. (четыре ответа)?

- 1) Троянская война; 2) появление греческого алфавита; 3) Марафонская битва; 4) создание Гомером поэм «Илиада» и «Одиссея»; 5) первые Олимпийские игры; 6) гибель Критского царства; 7) начало освоения железа в Древней Греции; 8) леятельность Солона в Афинах

4. Какие из перечисленных географических названий связаны с Афинами, а какие - со Спартой? Запишите в таблицу номера выбранных ответов.

- 1) Средняя Греция; 2) Южная Греция; 3) Лакония; 4) Еврот; 5) Атика; 6) Мессения

С Афинами связаны:	Со Спартой связаны:

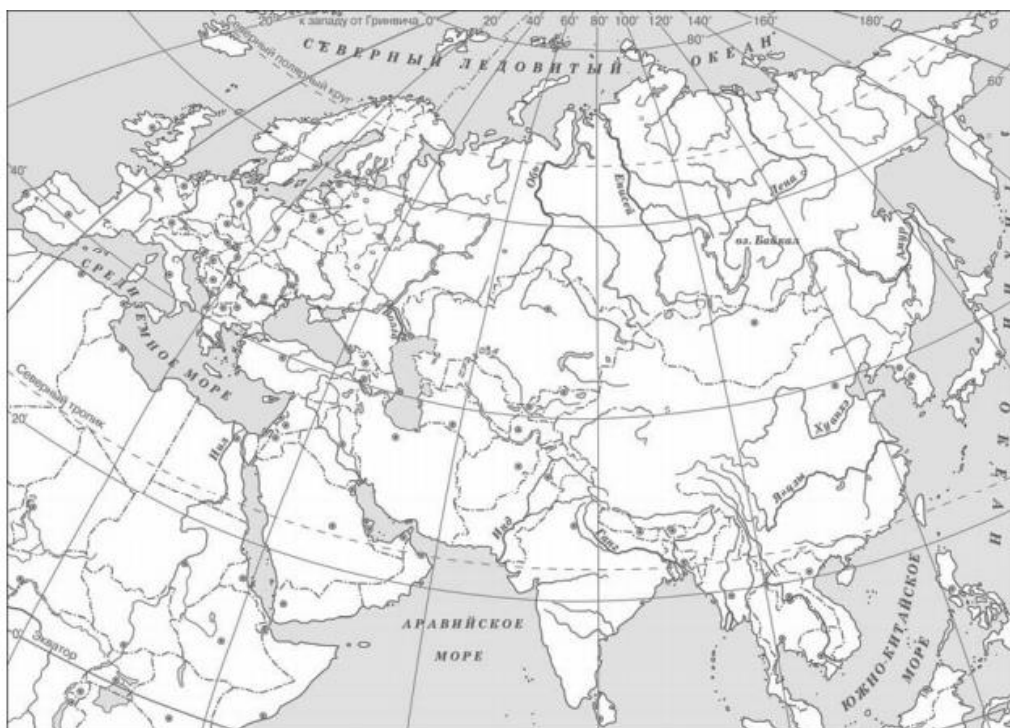
5. Кто мог быть судьей в Афинах (возраст, общественное и имущественное положение) после принятия законов Солона?

6. Объясните происхождение крылатого выражения «драконовские меры». В каком значении его употребляют сегодня?

7. Как сами греки называли себя и свою Родину?

8. Каким богам воздвигали храмы греки-колонисты?

9. Заштрихуйте на контурной карте один четырёхугольник, образованный градусной сеткой (параллелями и меридианами), в котором полностью или частично располагалась Греция.



10. Используя знания исторических фактов, объясните, как природно-климатические условия повлияли на занятия греков.

Промежуточная аттестация. Тестирование.

1. Что из перечисленного возникло около 10 тыс. лет назад?

- 1) земледелие; 2) обработка металлов; 3) освоение огня; 4) охота с луком и копьем

2. С помощью понятий святилище, колдовской обряд, жертва, молитва, духи, идол можно рассказать

- 1) о первобытной живописи; 2) о первобытной религии; 3) о хозяйственных достижениях первобытного человека; 4) о появлении неравенства между людьми

3. Когда мог появиться титул «Царь Южного и Северного Египта»?

- 1) 2 тыс. лет до н.э.; 2) 3 тыс. лет до н.э.; 3) 5 тыс. лет до н.э.; 4) 6 тыс. лет до н.э.;

4. Основа богатства и процветания Древнего Египта – это

- 1) земледелие; 2) скотоводство; 3) ремесла; 4) торговля

5. Вера в единого Бога впервые возникла

- 1) у финикийцев; 2) у персов; 3) у вавилонян; 4) у древних евреев

6. Выберите из перечисленного изобретения финикийцев (три ответа)

- 1) древнейший алфавит; 2) материал для письма – папирус; 3) деление часа на 60 минут;
4) календарь; 5) стекло; 6) пурпурная краска

1. Какие из перечисленных племен в начале Средневековья создали свои государства?

1) вестготы; 2) вандалы; 3) гунны; 4) франки; 5) галлы; 6) остготы

2. Майордом – это

1) глава народного ополчения свободных франков; 2) управляющий одной из областей во Франкском государстве;
3) аббат монастыря Сен-Галлен; 4) управляющий королевским домом

3. Напишите год возникновения Восточной Римской империи _____

4. Какое из перечисленных сооружений было возведено в Константинополе при императоре Юстиниане?

1) Пантеон; 2) храм в честь бога Юпитера; 3) храм Святой Софии; 4) храм в честь бога Марса

5. Какие из перечисленных понятий относятся к архитектуре и строительному делу, а какие – к изобразительному искусству?

1) мозаика; 2) неф; 3) апсида; 4) икона; 5) притвор; 6) купол; 7) барабан; 8) портик; 9) фреска

Архитектура и строительное дело	Изобразительное искусство

6. Дайте определения следующим понятиям:

Коран - _____

Суры - _____

7. Кого мусульмане почитают как пророка?

1) Мухаммеда; 2) Авиценну; 3) Харун ар-Рашида

8. Дайте определению понятиям «феод», «феодал».

9. Ответьте развернуто на вопрос

Чем внешний вид средневекового города напоминал замок? Как это можно объяснить?

10. Почему рыцаря называют тяжеловооруженным воином? Опишите его снаряжение. В чем была сила удара рыцарского войска?

Текущий контроль. Тестирование по итогам второго триместра

1. К какой языковой семье относится тюркская языковая группа?

1) к индоевропейской; 2) к урало-самодийской; 3) к алтайской; 4) к кавказской

2. укажите имена богов восточных славян

1) Зевс; 2) Мокошь; 3) Марс; 4) Велес; 5) Венера; 6) Перун

3. Впишите пропущенное слово.

Соседская община у восточных славян называлась _____

4. Укажите слово, пропущенное в схеме.

Две формы хозяйства в первобытном обществе	
?	Производящее

Ответ: _____

5. Опишите подсечно-огневую систему земледелия

6. Укажите город, в котором принял крещение князь Владимир.

1) Киев; 2) Херсонес; 3) Константинополь; 4) Новгород

7. Установите соответствие между событиями и годами.

События	Годы
1) Создание Правды Ярославичей	А) 862 г.
2) Начало княжения Владимира Мономаха в Киеве	Б) 980 г.
3) Призвание варягов	В) 1072 г.
	Г) 1113 г.

Ответы:

1	2	3

8. Укажите памятник древнерусской литературы, автором которого является митрополит Иларион.

1) «Слово о законе и благодати»; 2) «Поучение детям»; 3) «Житие Бориса и Глеба»; 4) «Повесть временных лет»

9. Впишите пропущенное слово.

_____ - разорившийся общинник, попавший в долговую кабалу за ссуду, которую он обрабатывал на поле у человека, ссудившего его

10. Напишите небольшое историческое сочинение о результатах деятельности Ярослава Мудрого

Промежуточная аттестация. Тестирование

1. Укажите народ, предки которого относятся к южной ветви славян

1) белорусы; 2) поляки; 3) чехи; 4) болгары

2. Укажите занятия восточных славян (несколько правильных вариантов)

1) скотоводство; 2) бортничество; 3) охота; 4) картофелеводство; 5) выращивание подсолнечника; 6) выращивание маслин

3. впишите пропущенное слово.

Способ обработки земли, при котором ежегодно половина земли остается под паром, называется _____.

4. Установите соответствие между событиями и участниками этих событий.

События	Годы
1) Первое столкновение Руси с Польшей	А) Ольга
2) Установление уроков и погостов	Б) Владимир Мономах
3) Взятие города Итиль	В) Святослав Игоревич
	Г) Владимир Святославич

Ответы:

1	2	3

5. Что из перечисленного стало одним из последствий распада Руси на самостоятельные земли?

- 1) утрата религиозного единства русских земель; 2) международная изоляция русских княжеств и земель; 3) упадок культуры в русских княжествах и землях; 4) ослабление обороноспособности русских земель

6. Укажите название представителя монгольского хана в завоеванных землях, контролировавшего местные власти

- 1) темник; 2) смерд; 3) баскак; 4) нойон

7. Запишите термин, о котором идет речь

Грамота, письменный указ хана Золотой Орды. Ответ: _____

8. Единый для всей страны срок перехода крестьян (неделя до Юрьева дня и неделя после) был введен:

- 1) по правде Ярослава; 2) по Уставу Владимира Мономаха; 3) по Судебнику Ивана III; 4) по Правде Ярославичей

9. Рассмотрите схему и выполните задание.



Назовите монгольского военачальника, к деятельности которого относится военный поход, представленный на схеме.

- 1) Чингисхан 2) Батый 3) Мамай 4) Тохтамыш

10. Прочитайте фрагмент из исторического источника и выполните задания. Используйте в ответах информацию текста и знания по истории.

«Пришли Святополк и Владимир, и Давид Игоревич, и Василько Ростиславович, и Давид Святославович, и брат его Олег и собрались для устроения мира между собой. И обращались к себе, говоря: «Зачем губам Русскую землю, сами на себя вражду воздвигая, а половину нашу землю терзают на части и радуются, что между нами войны доньше. С этого времени

соединимся в одно сердце и будем охранять русские земли. Пусть каждый держит отчизну свою... и на том целовали крест: Если кто пойдет на кого, войной, то на того будет все... и принеся клятву разошлись восвосяси».

Кто явился инициатором этого события? Какое значение имело это событие для Руси?

О каком событии говорится в документе? В каком году появился указанный документ?

7 класс

Текущий контроль. Тестирование по итогам первого триместра

1. К причинам Великих географических открытий не относится

1) агрессивные замыслы ряда европейских монархий; 2) поиск новых морских путей; 3) подъем деловой активности после Реформации; 4) поиск новых рынков

2. Прочитайте текст и определите деятеля эпохи Возрождения, о которой идет речь

«Итальянский живописец, скульптор, инженер и ученый, записи и рисунки которого позволяют судить об огромной изобретательности и универсальности ума, охватывающего разнообразные стороны природы от анатомии до аэродинамики».

1) Рафаэль; 2) Велаксес; 3) Микеланджело; 4) Леонардо да Винчи

3. Укажите название документа, который содержит следующие слова: «Чтобы не дать никакого повода к смутам и распрям среди наших подданных, мы позволили и позволяем исповедующим так называемую реформированную религию жить и обитать во всех городах и местах нашего королевства ... без преследований, притеснений и принуждений».

1) Аугсбургский религиозный ми; 2) Нантский эдикт; 3) Устав ордена иезуитов; 4) «95 тезисов против индульгенций»

4. Какое событие произошло позднее других?

1) назначение кардинала Ришелье первым министром короля; 2) принятие Нантского эдикта; 3) начало религиозных войн во Франции; 4) Варфоломеевская ночь

5. Расположите в хронологической последовательности следующие события. Укажите ответ в виде последовательности цифр выбранных элементов.

1) Аугсбургский религиозный мир; 2) окончание религиозных войн во Франции; 3) открытие Нового Света Х. Колумбом; 4) начало Реформации в Англии

--	--	--	--

6. Установите соответствие между произведениями и их авторами: к каждому элементу, данному в первом столбце, подберите соответствующий элемент из второго столбца

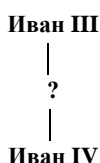
Произведения	Авторы
А) «Давид»	1) Леонардо да Винчи
Б) «Тайная вечеря»	2) Альбрехт Дюрер
В) «Мадонна Конестабиле»	3) Рафаэль
	4) Микеланджело

Ответы:

4. Запишите термин, о котором идет речь

Территориальные единицы в Российском государстве XVI в., делившиеся на станы и волости –

5. Заполните пропуск в схеме:



6. Установите соответствие между событиями и годами.

События	Годы
1) Стоглавый собор	А) 1492 г.
2) Открытие Америки	Б) 1507 г.
3) Начало русско-литовской войны	В) 1533 г.
	Г) 1551 г.

Ответы:

1	2	3

7. Запишите термин, о котором идет речь.

Высший совещательный орган при государе, в который входили думные чины – бояре, окольные, думные дворяне –

8. Прочитайте отрывок из сочинения историка и укажите название органов, трижды пропущенное в тексте

Появляются целые учреждения — так называемые _____ — для заведования государственными делами: Разряд, или разрядный _____, заведовал служебными делами и вел списки служилых людей; Посольский _____ ведал дипломатические сношения, переводил бумаги, получаемые от иностранных государств, сам составлял документы для отсылки за границу; Поместный заведовал раздачей поместий и регистрацией их... **Ответ:**

9. Существует точка зрения, что к концу правления Ивана III, по сравнению с периодами правлений его предшественников, значительно усилилась власть московского князя в Российском государстве. Приведите не менее двух аргументов в подтверждение данной точки зрения.

Промежуточная аттестация. Тестирование

1. Какое из перечисленных событий относится к периоду правления Ивана IV?

1) введение заповедных лет; 2) заключение «Вечного мира» между Россией и Речью Посполитой; 3) заключение Деулинского перемирия; 4) Соляной бунт в Москве

2. Установите соответствие между событиями и годами.

События	Годы
1) Смерть царевича Дмитрия в Угличе	А) 1551 г.
2) Стоглавый собор	Б) 1591 г.
3) Столбовский мир	В) 1617 г.
	Г) 1667 г.

Ответы:

1	2	3

3. Прочитайте отрывок из сочинения историка и укажите монарха, имя которого пропущено в тексте.

Царствование _____ в особенности было "бунташным временем", как его тогда называли. К тому времени окончательно сложился в составе московского общества и управления тип "сильного человека" или "временника", по тогдашнему выражению... Простой народ относился к этим временщикам с самой задушевной ненавистью. Московский июньский мятеж 1648 г., отозвавшийся во многих других городах, был ярким выражением этого чувства. **Ответ:**

4. Что из перечисленного стало одной из причин Смуты?

1)	завершение процесса объединения русских земель вокруг Москвы	3)	воцарение династии Романовых на российском престоле
2)	утрата Россией Новгорода и Пскова	4)	династический кризис

5. Ниже приведен перечень терминов. Все они, за исключением одного, относятся к событиям (явлениям, процессам), происходившим в России в XVI веке. Укажите номер термина, выпадающего из данного ряда.

1) Уложение о службе; 2) стрельцы; 3) дворяне; 4) полки нового строя; 5) губные старосты.

6. Укажите героев русской истории, которым посвящен данный памятник.



1) князь Олег и князь Игорь; 2) А. Невский и Д. Донской; 3) Иван Грозный и М. Воротынский; 4) Д. Пожарский и К. Минин

7. Русские войска во главе с воеводой М. Шениным в 1609 г. в течение 11 месяцев защищали от поляков город:

- | | |
|-----------------------|-------------|
| 1) Новгород-Северский | 3) Псков |
| 2) Смоленск | 4) Кострому |

8. Установите соответствие между историческими деятелями и терминами, которые отражают период их правления: к каждому элементу первого столбца подберите соответствующий элемент из второго столбца.

Исторический деятель	Термины
А) Иван III	1) Урочные лета
Б) Иван IV	2) Дворец и казна
В) Борис Годунов	3) Уроки и погосты
	4) Избранная рада

Запишите в таблицу выбранные цифры под соответствующими буквами.

Ответ:

А	Б	В
---	---	---

--	--	--

9. Прочитайте фрагмент из исторического источника и выполните задания 19,20. Используйте в ответах информацию текста и знания по истории.

«На соборной площади было черно от народа. На паперть вышел Минин и начал говорить: «Опомнитесь, надо собирать служивых дворян. По деревням да по городам собирать и простых и ратных людей и служивых дворян – кто захочет, созывать их в одно место, давать им коней да оружие. Так мы посадские кузнецы да плотники, да седельники да мясники, собрались да приговор написали - дать каждому от своих достатков третью деньгу на общее дело».

Укажите, в каком городе и в каком году состоялось описываемое событие?

Какое название это событие получило в истории? Какова была его цель?

8 класс

Текущий контроль. Тестирование по итогам первого триместра

1.К причинам Войны за независимость английских колоний в Северной Америке относится

1)введение гербового сбора на продажу товаров; 2)существование противоречий между северными и южными колониями; 3)стремление колонистов перейти под покровительство Франции; 4)борьба рабов за освобождение

2.Первым президентом США стал

1) Т. Джефферсон; 2) Д. Вашингтон; 3) Б. Франклин; 4) А. Гамильтон

3. Декларация независимости США была принята в

1) 1763 г.; 2)1765 г.» 3)1773 г.; 4) 1776 г.

4. Запишите термин, о котором идет речь

Этим термином обозначались жители английских конолий в Северной Америке, оставшиеся на стороне английского короля и английского парламента во время войны за независимость

Ответ: _____

5. Во второе сословие во Франции входили

1)крестьяне; 2)дворяне; 3)священники; 4)промышленники

6.К причинам Французской революции относится

1)ужесточение крепостного права; 2) распространение работорговли, которую вели богатые купцы; 3) сохранение сеньориального режима в деревне; 4) неспособность французского короля отразить иностранное вторжение

7. Когда завершилась Французская революция?

1) 9-10 ноября 1799 г.; 2) 27 июля 1794 г.; 3)2 июня 1793г.; 4) 1 октября 1791 г.

8. К причинам падения якобинской диктатуры относится

1)борьба «Горы» и Жиронды; 2) установление во Франции республики; 3)измена Ж. де Лафайета; 4) ширящийся террор

9. Какое мероприятие не принадлежит к политике термидорианского режима?

--	--	--

3. Установите соответствие между событиями и участниками этих событий.

События	Годы
А) Великое посольство	1) Феофан Прокопович
Б) деятельность на посту генерал-прокурора Правительствующего сената	2) П.И. Ягужинский
В) создание «Духовного регламента»	3) К.А. Булавин
	4) Ф.Я. Лефорт

Ответы:

А	Б	В

4. Что из перечисленного было следствием преобразований Петра I ?

1) отмена местничества; 2) окончательное подчинение церкви государству; 3) прекращение деятельности Земских соборов; 4) формирование сословно-представительной монархии

5. Кто из перечисленных деятелей культуры был архитектором?

1) Б. Растрелли; 2) И.Н. Никитин; 3) А.Ф. Зубов; 4) Я.В. Брюс

6. Расположите исторические события в хронологической последовательности. Запишите получившуюся последовательность букв.

А) учреждение Правительствующего сената; Б) заключение «Вечного мира» между Россией и Речью Посполитой; В) введение Табели о рангах; Г) начало Башкирского восстания в период правления Петра I

1	2	3	4

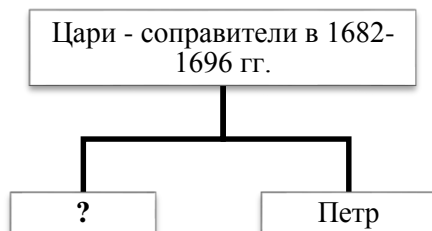
7. Укажите термин, о котором идет речь.

Категория крепостных крестьян в Российской империи, закрепленных за мануфактурами. Эти крестьяне не могли продаваться отдельно от предприятия. **Ответ:** _____

8. Что из перечисленного было причиной Северной войны?

1) необходимость выполнения Россией союзнических обязательств перед странами, входившими в Священную лигу;
 2) необходимость получения выхода России к Балтийскому морю; 3) Стремление укрепить позиции России на Белом море;
 4) угроза России со стороны набирающей военную мощь Турции

9. Заполните пропуск в схеме.



Ответ: _____

10. Существует точка зрения, что при Петре I произошло стирание различий в положении боярства и дворянства. Приведите не менее двух аргументов, подтверждающих данную точку зрения.

Промежуточная аттестация. Тестирование

1. Что из перечисленного относится к периоду правления Петра I ?

1) созыв последнего Земского собора; 2) отмена местничества; 3) учреждение Святейшего синода; 4) учреждение патриаршества

2. Установите соответствие между событиями и годами.

События	Годы
А) Издание Манифеста о секуляризации монастырских земель	1) 1711 г.
Б) Учреждение Правительствующего сената	2) 1730 г.
В) Составление кондиций	3) 1764 г.
	4) 1797 г.

Ответы:

А	Б	В

3. Установите соответствие между событиями и участниками этих событий.

События	Участники
А) Полтавская битва	1) П.С. Салтыков
Б) Чесменское сражение	2) Ф.Ф. Ушаков
В) сражение при Кунерсдорфе	3) Г.А. Спиридов
	4) А.Д. Меншиков

Ответы:

А	Б	В

4. Что из перечисленного было одной из причин начала эпохи дворцовых переворотов?

1) освобождение дворян от обязательной службы; 2) предъявление кондиций Анне Иоанновне; 3) убийство Петра III; издание Петром I Указа о престолонаследии

5. Ниже приведен перечень терминов (названий). Все они, за исключением одного относятся к событиям (явлениям, процессам), происходившим в России в период правления Петра I. Укажите порядковый номер термина (названия), «выпадающего» из данного ряда.

1) фискал; 2) посессионные крестьяне; 3) меркантилизм; 4) ассигнации; 5) ратуша

6. Какое из перечисленных событий относится к периоду правления Елизаветы Петровны?

1) открытие Московского университета; 2) открытие Славяно-греко-латинской академии; 3) открытие Смольного института благородных девиц; 4) открытие Академии наук

7. Укажите термин, о котором идет речь.

Политика абсолютизма в ряде европейских стран второй половины XVIII в., которая выражалась в преобразовании наиболее устаревших сторон жизни общества по инициативе монарха-реформатора.

Ответ: _____

8. Кто является автором скульптуры Медный всадник?

- 1) А.П. Лосенко; 2)В.Л. Боровиковский; 3) Д.Г. Левицкий; 4)Э.М. Фальконе

9.Укажите произведение, созданное в XVIII в.

- 1) 2) 3) 4)



10. Прочтите отрывок из исторического источника и кратко ответьте на вопросы С1–С3. Ответы предполагают использование информации из источника, а также применение исторических знаний по курсу истории соответствующего периода.

«По прошествии трёх недель по кончине Государыни я пошла к телу для панихиды. Идучи чрез переднюю, нашла тут князя Михаила Ивановича Дашкова, плачущего и вне себя от радости, и, прибежав ко мне, говорил: "Государь достоин, дабы ему воздвигнуть статую золотую; он всему дворянству дал вольность" и с тем едет в Сенат, чтоб там объявить. Я ему сказала: "Разве вы были крепостные и вас продавали доньне?" В чём же эта вольность? И вышло, что в том, чтоб служить и не служить по воле всякого. Сие и прежде было, ибо шли в отставку, но осталось исстари, что дворянство, с вотчин и поместья... кроме одряхлевших и малолетних, в службе Империи записаны были...»

Назовите императрицу, о кончине которой упоминается в отрывке. Назовите императора, о котором идёт речь.

В чём состоит различие в понимании слова «вольность» автором воспоминаний и князем М.И. Дашковым?

9 класс

Текущий контроль. Тестирование по итогам первого триместра

1.Объединение предприятий, в котором участники сохраняют производственную, но теряет торговую самостоятельность, – это

- 1) концерн; 2)трест; 3) синдикат; 4) картель

2. В литературе и искусстве XIX в.

- 1)существовало единство взглядов в изображении окружающей жизни; 2) имело место возвращение к традициям эпохи Возрождения; 3) получил распространение отказ от обращения к проблемам повседневной жизни; 4) шел процесс поиска новых художественных форм, методов и приемов

3. Расположите в хронологическом порядке следующие события. Укажите ответ в виде последовательности цифр выбранных элементов

1) изобретение телефона; 2) строительство первой железной дороги; 3) установление телеграфной связи между Вашингтоном и Балтимором; 4) создание первого способа фотографирования

Ответ:

--	--	--	--

4. Найдите в приведенном ниже списке две идеи, принадлежащие либерализму, и запишите цифры, под которыми они указаны

1) приверженность тому, что прошло испытание временем; 2) признание принципа: разрешено все, что не запрещено законом; 3) создание общества, основанного на началах солидарности людей и общности имущества; 4) необходимость вмешательства государства в экономику при сохранении частной собственности; 5) утверждение индивидуальной свободы в качестве высшей ценности

5. Полное объединение предприятий с потерей и тоговой, и производственной самостоятельности – это

1) картель; 2) трест; 3) синдикат; 4) концерн


6. Сенат провозгласил Наполеона «императором французов» в

1) 1799 г.; 2) 1802 г.; 3) 1804 г.; 4) 1806 г.

7. К мероприятиям Наполеона относится

1) восстановление католической церкви; 2) отмена декрета о «подозрительных»; 3) ограничение прав аристократии; 4) введение революционного террора

8. Запишите слово, пропущенное в схеме



9. Расположите в хронологической последовательности события.

1) образование Итальянского королевства; 2) чартистское движение в Великобритании; 3) «Сто дней» Наполеона Бонапарта; 4) Франко-прусская война

--	--	--	--

10. Вам поручено подготовить развернутый ответ по теме: «Правление Наполеона III». Составьте план, в соответствии с которым вы будете освещать эту тему. План должен содержать не менее трех пунктов. Напишите краткое пояснение содержания любых двух пунктов.

Текущий контроль. Тестирование по итогам второго триместра

1. Расположите события в хронологическом порядке

А) учреждение Государственного совета; Б) создание Северного тайного общества; В) создание Союза благоденствия; Г) начало работы Венского конгресса

А	Б	В	Г

2. Установите соответствие между событиями и годами.

События	Годы
А) Заключение Бухарестского мира между Россией и Османской империей	1) 1806 г.
Б) Восстание Черниговского полка	2) 1812 г.
В) Дарование конституции Царству Польскому	3) 1815 г.
	4) 1826 г.

Ответы:

А	Б	В

3. Установите соответствие между событиями и участниками этих событий.

События	Участники
А) Деятельность Негласного комитета	1) П.И.Багратион
Б) Бородинское сражение	2) И.И.Пушин
В) деятельность Союза спасения	3) П.А.Пален
	4) П.А. Строганов

Ответы:

А	Б	В

4. Укажите две причины неудачи выступления декабристов на Сенатской площади.

1) несовпадение реального хода событий с планом восстания; 2) отсутствие офицеров в рядах восставших; 3) наличие серьезных разногласий в рядах Южного общества; 4) арест диктатора восстания С.П. Трубецкого накануне выступления; 5) численное превосходство правительственных войск

5. Ниже приведен перечень терминов (названий). Все они, за исключением одного относятся к событиям (явлениям, процессам), истории России первой четверти XIX в. Укажите порядковый номер термина (названия), «выпадающего» из данного ряда.

1) Союз спасения; 2) верховники; 3) вольные хлебопашцы; 4) барщина; 5) Комитет министров

6. Запишите термин, о котором идет речь

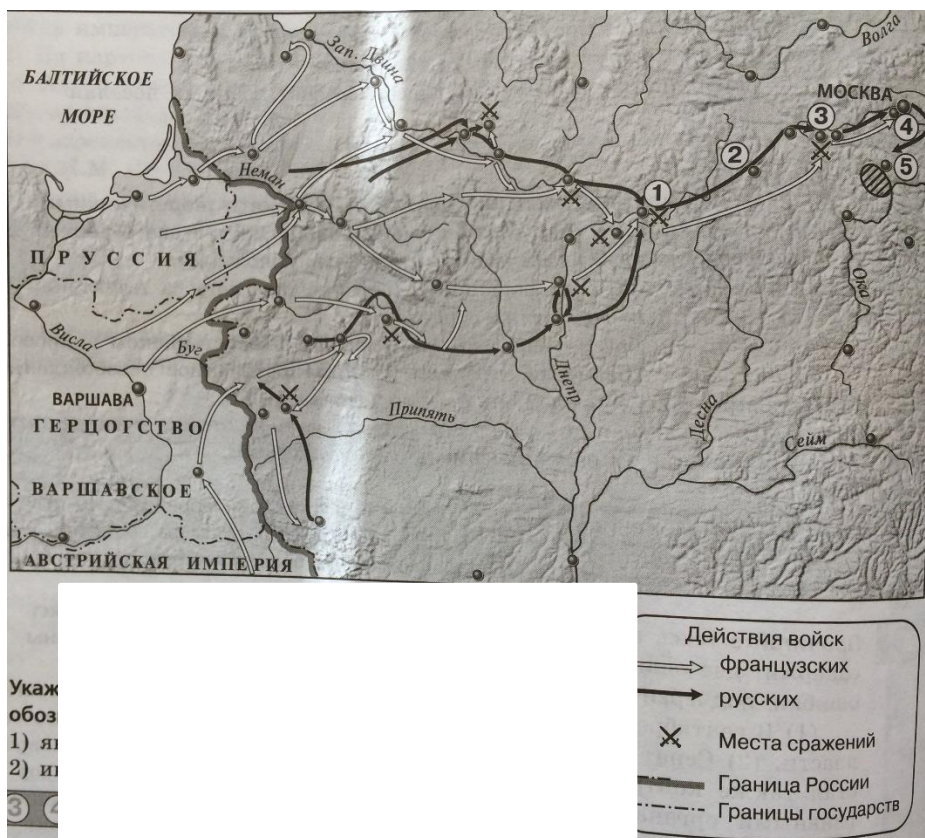
Постоянная работа крепостных крестьян на барской запашке при выплате им помещиком ежемесячного содержания.

Ответ: _____

7. Укажите два последствия создания военных поселений в первой четверти XIX в.

1) расформирование казачьих войск; 2) недовольство и массовые протесты крестьян; 3) снижение расходов государства на содержание армии; 4) прекращение рекрутских наборов в армию; 5) расширение социальной опоры власти за счет военных поселенцев

8. Рассмотрите карту и выполните задания 8-10. Укажите месяц, когда начались события, обозначенные на карте стрелками. 1) Январь; 2) июнь; 3) сентябрь; 4) декабрь



9. Укажите цифру, которой на карте обозначено на село Тарутино _____

10. Запишите название города, обозначенного на карте цифрой 1.

11. Заполните пропуск в схеме. Ответ: _____



12. В начале правления Александра I при императоре сформировался неофициальный совещательный орган, который готовил проведение преобразований. Укажите название этого органа. Укажите одну любую реформу в сфере государственного управления, подготовленную этим органом. Почему управление государством в результате этой реформы стало более эффективным?

Текущий контроль. Тестирование по итогам третьего триместра

1. Расположите события в хронологическом порядке.

- А) продажа Аляски Соединенным Штатам Америки; Б) начало реформы управления государственными крестьянами П.Д. Киселева; В) издание «Положения о мерах к охранению государственного порядка и общественного спокойствия»; Г) Бородинская битва

2. Установите соответствие между событиями и годами.

События	Годы
А) открытие I Государственной думы	5) 1803 г.
Б) издание указа о вольных хлебопашцах	6) 1842 г.
В) создание «Союза борьбы за освобождение рабочего класса»	7) 1895 г.
	8) 1906 г.

Ответы:

А	Б	В

3. Установите соответствие между событиями и участниками этих событий.

События	Участники
А) Русско-японская война	1) В.И. Истомин
Б) Отечественная война 1812 г.	2) М.Д. Скобелев
В) оборона Севастополя	3) С.О. Макаров
	5) П.И. Багратион

Ответы:

А	Б	В

4. Какие события относятся к периоду царствования Николая I? Укажите два события.

- 1) Синопское сражение; 2) создание организации «Народная воля»; 3) учреждение первых министерств; 4) отмена конституции Царства Польского; 5) создание РСДРП

5. Ниже приведен перечень терминов (названий). Все они, за исключением одного относятся к событиям (явлениям, процессам), происходившим в России в период правления Александра I. Укажите порядковый номер термина (названия), «выпадающего» из данного ряда.

- 1) барщина; 2) военные поселения; 3) отрезки; 4) рекрут; 5) отходничество

6. Сравните революционные движения в периоды правления Александра I и Александра II. Выберите и запишите в первую колонку таблицы порядковые номера черт сходства, а во вторую – порядковые номера черт различия.

- 1) участие в революционном движении в основном дворян; 2) использование насильственных методов для достижения цели; 3) создание революционных организаций; выдвигание идеи привлечения народных масс к участию в революции

Черты сходства	Черты различия

7. Запишите термин, о котором идет речь

Крупная политическая партия либерального направления в Российской империи, образованная в 1905 г. Виднейшим лидером этой партии был П.Н. Милюков

Ответ: _____

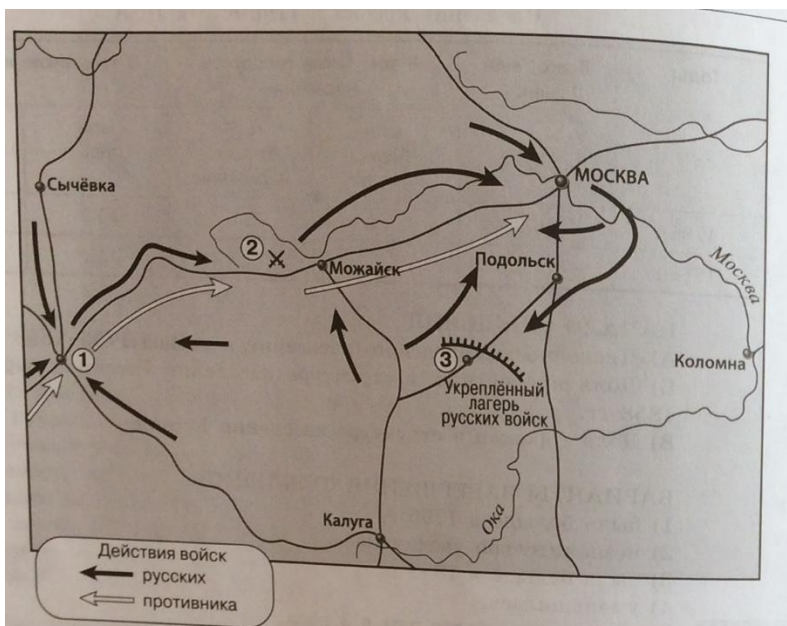
8. Запишите термин, о котором идет речь

Литературное и религиозно-философское течение русской общественной мысли, оформившееся в 40-х гг. XIX в., ориентированное на выявление самобытности России, ее типовых отличий от Запада.

Ответ: _____

9. Существует точка зрения, что отмена крепостного права в России была необходима для дальнейшего успешного развития страны. Приведите два аргумента в подтверждение данной точки зрения.

10. Рассмотрите карту и выполните задания.



Запишите год, когда произошли события, обозначенные на карте _____

Запишите имя главнокомандующего армией противника в период, к которому относится данная карта _____

11. Напишите небольшое историческое сочинение на тему: «Александр II Освободитель»
